


Level 5

V grafech níže je zaznamenán pohyb autíčka.

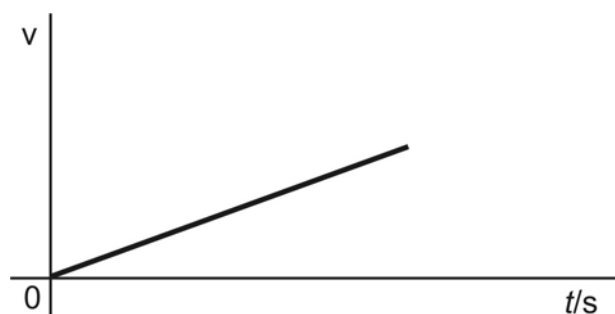
1. Popište tento pohyb, využijte řádky vpravo.
2. Zkuste zrealizovat tento pohyb popojížděním autíčka. Zda jste postupovali správně, vám ukáže graf, který během pohybu zaznamená detektor pohybu.

Pozor! Tentokrát se jedná o grafy závislosti **rychlosti** na čase.

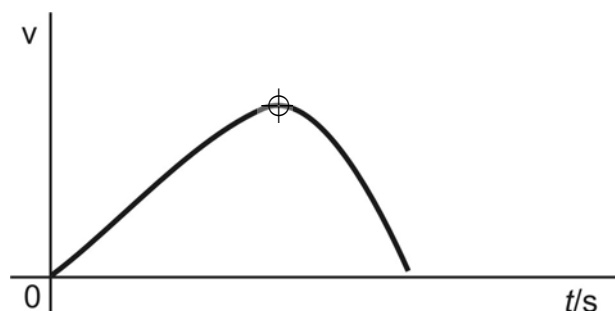
1.



2.



3.



? Jakou situaci znázorňuje maximum křivky (⊕) v grafu č. 3?
